

LIVRET PEDAGOGIQUE

Visiter

Le Château de BONREPOS-RIQUET



CHÂTEAU DE
BONREPOS-RIQUET

Château de Bonrepos-Riquet
En Mairie
31590 BONREPOS-RIQUET

Tél : 09 61 52 21 00
chateau.bonrepos.riquet@orange.fr

- **Pierre Paul Riquet**

Pierre Paul Riquet est un des personnages les plus importants du Midi de la France à l'époque moderne. On le connaît en tant qu'initiateur du Canal du Midi. Nous vous souhaitons la bienvenue dans son domaine.



© coll. privée

1. Quelle est l'année de naissance de Pierre Paul Riquet ?
2. Où est-il né ?
3. Dans quel milieu social vit-il ?
4. Quel est son métier ?
5. Qu'est-ce que la gabelle ?

Expliquer en quoi le métier de Pierre Paul Riquet consiste ?

6. Pourquoi choisit-il Bonrepos comme demeure définitive ?
7. Pour intégrer l'aristocratie que faut-il avoir ?

8. A quoi s'engage-t-il auprès des habitants et des consuls en achetant Bonrepos?
9. En échange de quoi ?
10. A quelle date le château lui appartient-il ?
11. A quelle date a-t-il été anobli ?
12. Quelles lettres a-t-il reçu ?
- Battantes
 - Patentes
 - Rageantes
13. En quelle année Pierre Paul Riquet est-il mort ?
14. Où est-il inhumé ?

- Le château de BONREPOS-RIQUET

Après avoir vécu un temps dans l'ancienne maison seigneuriale, Riquet confie, en juillet 1656, la construction de son nouveau château à deux maîtres maçons, Isaac Roux et Antoine Brayrie, respectivement originaires de Revel et d'Argentat.

1. Au XVII^e siècle, ce château a des éléments du château-fort. Citez-les.
2. Pourquoi ?
3. Quelles sont les pièces que vous traversez ?



- *Le Salon Blanc* : de quelle époque date le sol ?
Quel est le style de ce salon ?

A quoi servait ce salon ?

- *Le grand salon d'hiver* : Qu'est-ce qui fait de ce salon un lieu privilégié en hiver ?

Comment appelle-t-on ce style de plancher ?

Dessinez-en un exemple :

- *Le grand vestibule* : Qu'est-ce qui se trouvait ici à l'époque de Pierre Paul Riquet ?

Qu'est-ce qui explique ce transfert ?

Comment décririez-vous le sol ? De quelle époque est-il ?

Comment appelle-t-on les décors au mur ?

4. Quelle est la surface de ce château ? Combien y a-t-il de pièces ?
5. Lors de la Seconde Guerre Mondiale, le château a été annexé par les troupes allemandes. Que faisaient-elles au château ?


Sortons du Château et observons la façade Est dans son ensemble.

6. Combien y a-t-il de niveaux (étages) ?
7. Expliquer l'expression « étage noble » / « étage de services ».

Comment peut-on les différencier ?

8. Combien comptez-vous de tours ? décrivez-les.
9. *Lorsqu'on observe cette façade, un avant-corps se détache du château, il s'agit de l'emplacement du grand escalier du XVII^e siècle. Qu'y avait-il en haut de la tour à l'époque de Jean Gabriel ?*

10. Voici la reproduction des élévations du XVIII^e siècle et une photo de l'état actuel du château. Relevez les différences :



11. Reporter les différents éléments architecturaux du château de Riquet devant chaque flèche.



- ← -Oculus
- ← -Fronton
- ← -Bandeau ou cordon
- ← -Tourelle en poivrière

- **Les jardins**

Le jardin à la française ou jardin classique est un jardin à ambition esthétique et symbolique. Il porte à son apogée l'art de corriger la nature pour y imposer la symétrie. Il exprime le désir d'exalter dans le végétal le triomphe de l'ordre sur le désordre, de la culture sur la nature sauvage, du réfléchi sur le spontané. Il culmine au XVII^e siècle avec la création pour Louis XIV du jardin à la française bientôt copié par toutes les cours d'Europe.

1. Dans quel lieu emblématique retrouve-t-on ce type de jardin ?

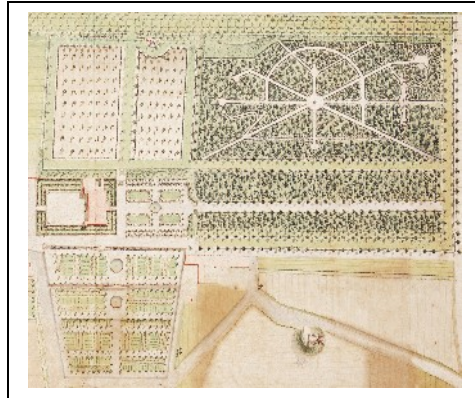
2. Relevez les caractéristiques du jardin à la française sur les plans de Bonrepos.

3. Relevez les différences entre les 2 plans : axes, taille, bâtiments.

Elles révèlent les transformations et aménagements du domaine au cours du XVIII^e siècle.

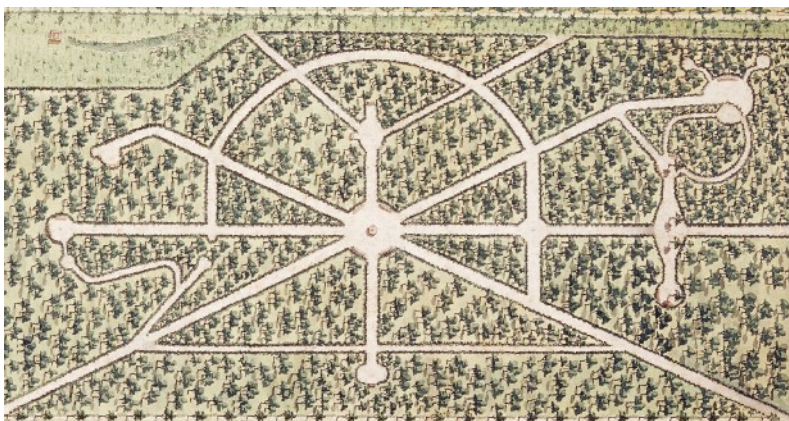


1730



XVIII^e siècle

4. *Au bout de l'allée de front vous apercevez un vase dit « Médicis », il était certainement la pièce principale du bosquet rayonnant, placez –le sur le plan suivant.*



Quelle est la hauteur du vase ?

- L'Orangerie

12. Au cours de quelle période l'Orangerie a-t-elle été construite?

13. A quoi servait-elle ?

14. Indiquer la surface de cet édifice ?

15. La comparer avec celle château. Que pouvez vous en conclure ?

16. Où se trouvent les ouvertures ? Pourquoi ?

17. Réalisez un schéma de la façade Nord de l'Orangerie, pourquoi ce mur est-il plein ?



18. Quel est ce style ?

19. Qu'illustre ce bâtiment pour la famille Riquet ?

20. Comment s'appelle la maison attenante à l'Orangerie ?

En Avril 1792, les commissaires révolutionnaires établissent un inventaire du Château et de ses dépendances.

21. Au XIXe siècle, une rumeur prétend que le château est hanté. Par qui ?

Qui était-elle par rapport à Riquet ?

De quoi est-elle morte ? A quelle date ?

- Le vallon de la Garenne

22. Qu'est-ce que le droit de Garenne sous l'Ancien Régime ?

- La Glacière

23. Où se trouve-t-elle ?

24. Donner ses dimensions et sa contenance en glace:

25. Quel est le rôle de la glacière ?

26. D'où provenait la glace ?

- La « Machine Hydraulique »

27. Pierre Paul Riquet est-il l'inventeur du concept du canal ?

28. Qu'a-t-il fait dans son parc ?

29. D'où proviennent les eaux alimentant ces bassins ?

30. Pourquoi a-t-il éprouvé le besoin de le faire d'abord chez lui ?

31. Combien de temps a duré cette étude dans sa propriété ?



32. Nommer les différentes parties de la Machine Hydraulique (ruisseau-rigole, barrage, bassin-réservoir, bassin-canal) et résumez en quelques phrases le fonctionnement de cette « Machine Hydraulique » :

33. *Le dernier bassin est conçu comme un tronçon de canal.* Dans quel grand jardin peut-on retrouver la même chose en France ?

34. Quelles sont les fonctions de ce bassin-canal ? (*plusieurs réponses possibles*)

- Essais hydrauliques
- Bassins d'agrément
- Aucune fonction

Voici un arbre généalogique simplifié de la famille de Pierre Paul Riquet de Bonrepos, retrouvez les prénoms de ses descendants.

